


# Sachrechnen

## Klasse 2



### *Addition und Subtraktion*

*Wiederholung ZR 20 (Seite 1-10)*

*reine Zehner ZR 100 (Seite 11-20)*

*ohne Überschreitung ZR 100 (Seite 21-30)*

*mit Überschreitung ZR 100 (Seite 31-40)*


# Sachrechnen Klasse 2

1

Marion würfelt zuerst eine Vier und dann eine Sechs. Wie viele Augen darf sie vorrücken?

R																			
---	--	--	--	--	--	--	--	--	--	--	--	--	--	--	--	--	--	--	--


A:																			
----	--	--	--	--	--	--	--	--	--	--	--	--	--	--	--	--	--	--	--



Der kleine Affe hat von seinem Pfleger 8 Bananen bekommen. Er isst 3 Bananen gleich. Wie viele hat er noch übrig?

R																			
---	--	--	--	--	--	--	--	--	--	--	--	--	--	--	--	--	--	--	--


A:																			
----	--	--	--	--	--	--	--	--	--	--	--	--	--	--	--	--	--	--	--



Ein Marienkäfer hat auf einer Seite 4 Punkte und auf der anderen Seite 5 Punkte. Wie viele Punkte sind das insgesamt?

R																			
---	--	--	--	--	--	--	--	--	--	--	--	--	--	--	--	--	--	--	--

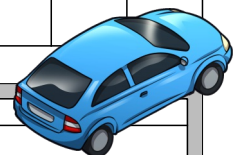
A:																			
----	--	--	--	--	--	--	--	--	--	--	--	--	--	--	--	--	--	--	--



Alexander geht mit zehn Spielzeugautos auf den Spielplatz. Er verliert 3 Autos. Wie viele Autos hat er noch?

R																			
---	--	--	--	--	--	--	--	--	--	--	--	--	--	--	--	--	--	--	--

A:																			
----	--	--	--	--	--	--	--	--	--	--	--	--	--	--	--	--	--	--	--




# Sachrechnen Klasse 2

2

Auf dem Parkplatz stehen 9 Autos. 3 Autos fahren weg.  
Wie viele Autos stehen noch auf dem Spielplatz?

R														
---	--	--	--	--	--	--	--	--	--	--	--	--	--	--


A:														
----	--	--	--	--	--	--	--	--	--	--	--	--	--	--



Sabine besitzt 8 Murmeln. Beim Spielen gewinnt sie noch 4  
Murmeln dazu. Wie viele Murmeln hat sie jetzt?

R														
---	--	--	--	--	--	--	--	--	--	--	--	--	--	--


A:														
----	--	--	--	--	--	--	--	--	--	--	--	--	--	--



Lars findet eine Schatztruhe mit 20 Edelsteinen. 6 Steine  
schenkt er seinem Bruder. Wie viele Steine hat er noch?

R														
---	--	--	--	--	--	--	--	--	--	--	--	--	--	--


A:														
----	--	--	--	--	--	--	--	--	--	--	--	--	--	--



Die kleine Maus frisst morgens 3 Stück Käse, am Mittag 4  
Stück Käse und abends noch einmal 7 Stück. Wie viele Stück  
Käse hat sie gegessen?

R														
---	--	--	--	--	--	--	--	--	--	--	--	--	--	--

A:														
----	--	--	--	--	--	--	--	--	--	--	--	--	--	--






# Sachrechnen Klasse 2

4

Die fleißige Biene Sumsi sammelt 13 Töpfe Honig. Die langsamere Biene Sissi sammelt 4 Töpfe weniger. Wie viel Honig hat Sissi gesammelt?


R																			
---	--	--	--	--	--	--	--	--	--	--	--	--	--	--	--	--	--	--	--



A:																			
----	--	--	--	--	--	--	--	--	--	--	--	--	--	--	--	--	--	--	--

In der Obstschale sind 16 Äpfel. Adam nimmt 3 Äpfel heraus. Wie viele Äpfel sind noch in der Schale?

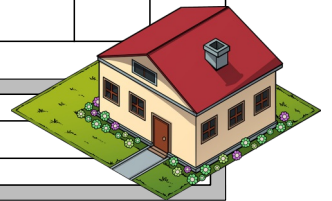
R																			
---	--	--	--	--	--	--	--	--	--	--	--	--	--	--	--	--	--	--	--



A:																			
----	--	--	--	--	--	--	--	--	--	--	--	--	--	--	--	--	--	--	--

Ein Haus hat vorne 7 Fenster, hinten 8 Fenster und auf der Seite 5 Fenster. Wie viele Fenster sind das insgesamt?


R																			
---	--	--	--	--	--	--	--	--	--	--	--	--	--	--	--	--	--	--	--



A:																			
----	--	--	--	--	--	--	--	--	--	--	--	--	--	--	--	--	--	--	--

Der Gärtner pflanzt 4 Eichen, 5 Ahornbäume und 8 Birken. Wie viele Bäume hat er insgesamt gepflanzt?

R																			
---	--	--	--	--	--	--	--	--	--	--	--	--	--	--	--	--	--	--	--



A:																			
----	--	--	--	--	--	--	--	--	--	--	--	--	--	--	--	--	--	--	--

# Sachrechnen Klasse 2

5

Vera hat in den Ferien elf Bücher gelesen und Anton hat acht Bücher gelesen. Wie viele Bücher sind das insgesamt?


R																			
---	--	--	--	--	--	--	--	--	--	--	--	--	--	--	--	--	--	--	--



A:																			
----	--	--	--	--	--	--	--	--	--	--	--	--	--	--	--	--	--	--	--

Der Osterhase hat dreizehn rote und vier blaue Ostereier versteckt. Wie viele Ostereier müssen die Kinder suchen?

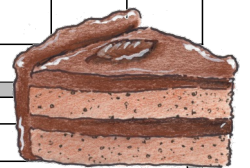
R																			
---	--	--	--	--	--	--	--	--	--	--	--	--	--	--	--	--	--	--	--



A:																			
----	--	--	--	--	--	--	--	--	--	--	--	--	--	--	--	--	--	--	--

Mama schneidet einen Kuchen in 12 Stücke. Lina isst 3 Stück und Moritz isst 2 Stück. Wie viele Stück sind noch übrig?

R																			
---	--	--	--	--	--	--	--	--	--	--	--	--	--	--	--	--	--	--	--




A:																			
----	--	--	--	--	--	--	--	--	--	--	--	--	--	--	--	--	--	--	--

In der Dose sind 20 Büroklammern. Die Lehrerin verbraucht 7 Stück davon. Wie viele Stück sind noch übrig?

R																			
---	--	--	--	--	--	--	--	--	--	--	--	--	--	--	--	--	--	--	--

A:																			
----	--	--	--	--	--	--	--	--	--	--	--	--	--	--	--	--	--	--	--




# Sachrechnen Klasse 2

6

Im Garten stehen 14 Tulpen. Am nächsten Morgen sind 3 Tulpen verwelkt. Wie viele Blumen sind noch schön?

R																				
---	--	--	--	--	--	--	--	--	--	--	--	--	--	--	--	--	--	--	--	--



A:																				
----	--	--	--	--	--	--	--	--	--	--	--	--	--	--	--	--	--	--	--	--

Der Bauer erntet am ersten Tag 15 Kürbisse und am zweiten Tag 4 Kürbisse. Wie viele Kürbisse hat er geerntet?

R																				
---	--	--	--	--	--	--	--	--	--	--	--	--	--	--	--	--	--	--	--	--



A:																				
----	--	--	--	--	--	--	--	--	--	--	--	--	--	--	--	--	--	--	--	--

Im Flugzeug sitzen 7 Männer, 6 Frauen und 7 Kinder. Wie viele Menschen sitzen im Flugzeug?


R																				
---	--	--	--	--	--	--	--	--	--	--	--	--	--	--	--	--	--	--	--	--



A:																				
----	--	--	--	--	--	--	--	--	--	--	--	--	--	--	--	--	--	--	--	--

Ein Schüler hat 15 Rechnungen gerechnet. Leider sind 6 Rechnungen falsch. Wie viele Rechnungen sind richtig?

R																				
---	--	--	--	--	--	--	--	--	--	--	--	--	--	--	--	--	--	--	--	--



A:																				
----	--	--	--	--	--	--	--	--	--	--	--	--	--	--	--	--	--	--	--	--



# Sachrechnen Klasse 2

7

Zum Geburtstag hat Peter acht große Geschenke und fünf kleine Geschenke bekommen. Wie viele Geschenke sind das?

R																			
---	--	--	--	--	--	--	--	--	--	--	--	--	--	--	--	--	--	--	--



A:																			
----	--	--	--	--	--	--	--	--	--	--	--	--	--	--	--	--	--	--	--

Im Teich sitzen 12 Frösche. 5 Frösche quaken laut. Wie viele Frösche sind leise?

R																			
---	--	--	--	--	--	--	--	--	--	--	--	--	--	--	--	--	--	--	--



A:																			
----	--	--	--	--	--	--	--	--	--	--	--	--	--	--	--	--	--	--	--

Ein Schüler muss 20 Rechnungen machen. Er hat schon 11 Rechnungen erledigt. Wie viele Aufgaben muss er noch rechnen?

R																			
---	--	--	--	--	--	--	--	--	--	--	--	--	--	--	--	--	--	--	--

A:																			
----	--	--	--	--	--	--	--	--	--	--	--	--	--	--	--	--	--	--	--



Mama kauft 5 Laugenbrötchen, 6 Semmel und 4 Kornbrötchen. Wie viele Stück Gebäck hat sie gekauft?

R																			
---	--	--	--	--	--	--	--	--	--	--	--	--	--	--	--	--	--	--	--

A:																			
----	--	--	--	--	--	--	--	--	--	--	--	--	--	--	--	--	--	--	--






# Sachrechnen Klasse 2

8

Der Zauberer zaubert 5 Hasen, 7 Tauben und 4 Mäuse aus dem Hut. Wie viele Tiere sind das zusammen?


R																			
---	--	--	--	--	--	--	--	--	--	--	--	--	--	--	--	--	--	--	--



A:																			
----	--	--	--	--	--	--	--	--	--	--	--	--	--	--	--	--	--	--	--

Melanie hat in ihrem Märchenbuch 12 Geschichten. 4 Märchen hat sie schon gelesen. Wie viele Märchen sind noch übrig?


R																			
---	--	--	--	--	--	--	--	--	--	--	--	--	--	--	--	--	--	--	--



A:																			
----	--	--	--	--	--	--	--	--	--	--	--	--	--	--	--	--	--	--	--

Die Lehrerin kauft 10 Bleistifte, 6 Klebestifte und 3 Scheren. Wie viele Dinge hat sie gekauft?


R																			
---	--	--	--	--	--	--	--	--	--	--	--	--	--	--	--	--	--	--	--



A:																			
----	--	--	--	--	--	--	--	--	--	--	--	--	--	--	--	--	--	--	--

Ein Hund hat 13 Knochen im Garten vergraben. Nach einigen Tagen buddelt er 4 Knochen wieder aus. Wie viele Knochen sind noch versteckt?

R																			
---	--	--	--	--	--	--	--	--	--	--	--	--	--	--	--	--	--	--	--



A:																			
----	--	--	--	--	--	--	--	--	--	--	--	--	--	--	--	--	--	--	--



# Sachrechnen Klasse 2

10

Im Chor singen 12 Männer, 7 Frauen und 14 Kinder. Wie viele Erwachsene singen im Chor?


R																				
---	--	--	--	--	--	--	--	--	--	--	--	--	--	--	--	--	--	--	--	--



A:																				
----	--	--	--	--	--	--	--	--	--	--	--	--	--	--	--	--	--	--	--	--

Im Meer schwimmt ein Schwarm mit 20 kleinen Fischen. Ein Wal verschluckt 13 Fische. Wie viele Fische sind noch übrig?

R																				
---	--	--	--	--	--	--	--	--	--	--	--	--	--	--	--	--	--	--	--	--



A:																				
----	--	--	--	--	--	--	--	--	--	--	--	--	--	--	--	--	--	--	--	--

Im Bus sitzen 12 Erwachsene, 7 Kinder und 3 Hunde. Wie viele Menschen sitzen im Bus?


R																				
---	--	--	--	--	--	--	--	--	--	--	--	--	--	--	--	--	--	--	--	--



A:																				
----	--	--	--	--	--	--	--	--	--	--	--	--	--	--	--	--	--	--	--	--

Ein Bauer wirft 20 Körner auf den Boden. Das Huhn frisst auf der Stelle 15 Körner. Wie viele Körner liegen noch da?

R																				
---	--	--	--	--	--	--	--	--	--	--	--	--	--	--	--	--	--	--	--	--




A:																				
----	--	--	--	--	--	--	--	--	--	--	--	--	--	--	--	--	--	--	--	--

# Sachrechnen Klasse 2

11

Nina ist eine Leseratte. Sie liest am Montag 30 Seiten, am Dienstag 40 Seiten und am Mittwoch 20 Seiten. Wie viele Seiten hat sie gelesen?


R



A:

In den Ferien hat Simon viel gelesen. Ein Buch mit 40 Seiten und ein Buch mit 60 Seiten. Wie viele Seiten hat er insgesamt gelesen?


R



A:

Robin ist ein Bücherwurm. Er hat zwei Bücher gelesen. Jedes Buch hatte 40 Seiten. Wie viele Seiten sind das?

R



A:

Tom mag gar nicht gerne lesen. Trotzdem hat er sich bemüht und ein Buch mit 34 Seiten gelesen. Wie viele Seiten waren das insgesamt?

R



A:









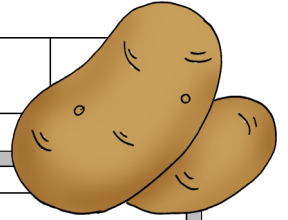


# Sachrechnen Klasse 2

16

Der Bauer hat 100 Kilogramm Kartoffeln geerntet. 30 kg verkauft er. Den Rest bringt er in den Keller. Wie viele kg sind im Keller?

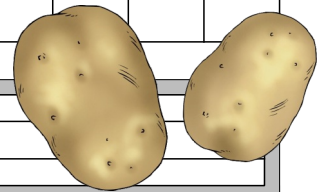
R																			
---	--	--	--	--	--	--	--	--	--	--	--	--	--	--	--	--	--	--	--



A:																			
----	--	--	--	--	--	--	--	--	--	--	--	--	--	--	--	--	--	--	--

Der Bauer hat 80 kg Kartoffeln. 20 kg bringt er zum Markt. Wie viele kg hat er noch übrig?

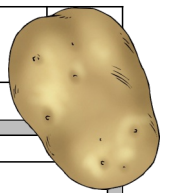
R																			
---	--	--	--	--	--	--	--	--	--	--	--	--	--	--	--	--	--	--	--



A:																			
----	--	--	--	--	--	--	--	--	--	--	--	--	--	--	--	--	--	--	--

Der Bauer hat 90 kg Kartoffeln geerntet. 60 kg hat er in Säcke gefüllt. Wie viele kg sind noch übrig?


R																			
---	--	--	--	--	--	--	--	--	--	--	--	--	--	--	--	--	--	--	--



A:																			
----	--	--	--	--	--	--	--	--	--	--	--	--	--	--	--	--	--	--	--

Der Bauer hat 100 kg Kartoffeln im Keller. 20 kg verkauft er, 30 kg verschenkt er. Wie viele kg Kartoffeln hat er noch für sich?


R																			
---	--	--	--	--	--	--	--	--	--	--	--	--	--	--	--	--	--	--	--




A:																			
----	--	--	--	--	--	--	--	--	--	--	--	--	--	--	--	--	--	--	--

# Sachrechnen Klasse 2


Sara hat 80 Euro gespart. Sie bezahlt 50 Euro für einen CD-Player. Wie viel Geld hat sie noch übrig?

R													
A:													


Theresa hat 90 Euro gespart. Sie bezahlt 40 Euro für ein Skateboard. Wie viel Geld hat sie noch übrig?

R													
A:													

Yvonne hat 100 Euro gespart. Sie bezahlt 90 Euro für ein gebrauchtes Fahrrad. Wie viel Geld bleibt ihr noch?

R													
A:													

Quirin hat 50 Euro gespart. Er braucht 60 Euro für eine neue Schultasche. Reicht das Geld?

R													
A:													



# Sachrechnen Klasse 2

19

Sabrina hat am Montag 60 Seiten und am Dienstag 20 Seiten gelesen. Wie viele Seiten sind das insgesamt?


R														
---	--	--	--	--	--	--	--	--	--	--	--	--	--	--



A:														
----	--	--	--	--	--	--	--	--	--	--	--	--	--	--

Petras Buch hat 80 Seiten. 60 Seiten hat sie schon gelesen. Wie viele Seiten sind noch übrig?


R														
---	--	--	--	--	--	--	--	--	--	--	--	--	--	--



A:														
----	--	--	--	--	--	--	--	--	--	--	--	--	--	--

Marian bastelt aus 30 roten, 20 blauen, 10 grünen und 20 gelben Perlen eine Kette. Wie viele Perlen sind das?

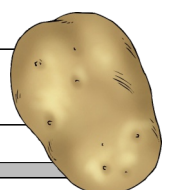
R														
---	--	--	--	--	--	--	--	--	--	--	--	--	--	--



A:														
----	--	--	--	--	--	--	--	--	--	--	--	--	--	--

Im Keller sind 60 Kilogramm Kartoffeln. Der Bauer verkauft 30 Kilogramm. Wie viele kg sind noch übrig?

R														
---	--	--	--	--	--	--	--	--	--	--	--	--	--	--




A:														
----	--	--	--	--	--	--	--	--	--	--	--	--	--	--

# Sachrechnen Klasse 2

20

Ferdinand hat 40 Euro gespart. Er kauft CDs um 20 Euro. Wie viel Geld hat er noch übrig?

R																			
---	--	--	--	--	--	--	--	--	--	--	--	--	--	--	--	--	--	--	--



A:																			
----	--	--	--	--	--	--	--	--	--	--	--	--	--	--	--	--	--	--	--

Tante Susi backt 30 Vanillekipferl und 50 Windbeutel. Wie viele Stück Gebäck sind das?


R																			
---	--	--	--	--	--	--	--	--	--	--	--	--	--	--	--	--	--	--	--



A:																			
----	--	--	--	--	--	--	--	--	--	--	--	--	--	--	--	--	--	--	--

Der Bauer erntet 40 Birnen und gleich viele Äpfel. Wie viel Obst hat er geerntet?


R																			
---	--	--	--	--	--	--	--	--	--	--	--	--	--	--	--	--	--	--	--



A:																			
----	--	--	--	--	--	--	--	--	--	--	--	--	--	--	--	--	--	--	--

Onkel Otto macht eine Radtour mit 70 Kilometern. Bis zum Mittagessen schafft er 40 Kilometer. Wie viele km muss er am Nachmittag noch fahren?

R																			
---	--	--	--	--	--	--	--	--	--	--	--	--	--	--	--	--	--	--	--

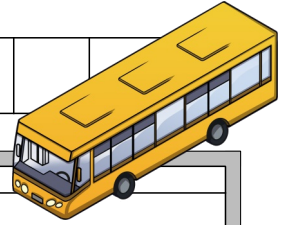


A:																			
----	--	--	--	--	--	--	--	--	--	--	--	--	--	--	--	--	--	--	--

# Sachrechnen Klasse 2

Im Schulbus sitzen 34 Kinder. 5 Kinder steigen ein.  
Wie viele Kinder sind nun im Bus?


R																			
---	--	--	--	--	--	--	--	--	--	--	--	--	--	--	--	--	--	--	--



A:																			
----	--	--	--	--	--	--	--	--	--	--	--	--	--	--	--	--	--	--	--

Im Schulbus sitzen 48 Kinder. 7 Kinder steigen aus.  
Wie viele Kinder sitzen nun im Bus?


R																			
---	--	--	--	--	--	--	--	--	--	--	--	--	--	--	--	--	--	--	--



A:																			
----	--	--	--	--	--	--	--	--	--	--	--	--	--	--	--	--	--	--	--

Im Schulbus sitzen 29 Kinder. 16 Kinder steigen aus.  
Wie viele Kinder sind nun im Bus?


R																			
---	--	--	--	--	--	--	--	--	--	--	--	--	--	--	--	--	--	--	--



A:																			
----	--	--	--	--	--	--	--	--	--	--	--	--	--	--	--	--	--	--	--

Im Schulbus sind 21 Kinder. 15 Kinder steigen ein.  
Wie viele Kinder sind nun im Bus?

R																			
---	--	--	--	--	--	--	--	--	--	--	--	--	--	--	--	--	--	--	--




A:																			
----	--	--	--	--	--	--	--	--	--	--	--	--	--	--	--	--	--	--	--

# Sachrechnen Klasse 2

Im Stall sind 34 Hühner. In der Nacht frisst der Fuchs 3 Hühner. Wie viele sind es noch?


R																				
---	--	--	--	--	--	--	--	--	--	--	--	--	--	--	--	--	--	--	--	--



A:																				
----	--	--	--	--	--	--	--	--	--	--	--	--	--	--	--	--	--	--	--	--

Im Freigehege sind 46 Hühner. 13 Hühner flattern davon. Wie viele Hühner sind noch im Gehege?


R																				
---	--	--	--	--	--	--	--	--	--	--	--	--	--	--	--	--	--	--	--	--



A:																				
----	--	--	--	--	--	--	--	--	--	--	--	--	--	--	--	--	--	--	--	--

Der Bauer hat 23 Hühner. In der Nacht schlüpfen 5 Küken aus dem Ei. Wie viele Hühner hat er nun?


R																				
---	--	--	--	--	--	--	--	--	--	--	--	--	--	--	--	--	--	--	--	--



A:																				
----	--	--	--	--	--	--	--	--	--	--	--	--	--	--	--	--	--	--	--	--

Der Bauer hat 21 braune und 16 weiße Hennen. Wie viele Hühner sind das insgesamt?

R																				
---	--	--	--	--	--	--	--	--	--	--	--	--	--	--	--	--	--	--	--	--



A:																				
----	--	--	--	--	--	--	--	--	--	--	--	--	--	--	--	--	--	--	--	--











# Sachrechnen Klasse 2

Karoline ist 17 Jahre alt. Ihr Papa ist 31 Jahre älter.  
Wie alt ist ihr Papa?

R																			
---	--	--	--	--	--	--	--	--	--	--	--	--	--	--	--	--	--	--	--


A:																			
----	--	--	--	--	--	--	--	--	--	--	--	--	--	--	--	--	--	--	--



Leonara ist 5 Jahre alt. Ihre Mama ist 33 Jahre älter.  
Wie alt ist ihre Mama?

R																			
---	--	--	--	--	--	--	--	--	--	--	--	--	--	--	--	--	--	--	--


A:																			
----	--	--	--	--	--	--	--	--	--	--	--	--	--	--	--	--	--	--	--



Oma Rosi ist 69 Jahre alt. Ihre Enkelin Matilda ist 61 Jahre  
jünger. Wie alt ist Matilda?

R																			
---	--	--	--	--	--	--	--	--	--	--	--	--	--	--	--	--	--	--	--

A:																			
----	--	--	--	--	--	--	--	--	--	--	--	--	--	--	--	--	--	--	--



Karoline ist 17 Jahre alt. Ihre Kusine Eloisa ist 3 Jahre alt.  
Um wie viele Jahre ist Eloisa jünger?

R																			
---	--	--	--	--	--	--	--	--	--	--	--	--	--	--	--	--	--	--	--

A:																			
----	--	--	--	--	--	--	--	--	--	--	--	--	--	--	--	--	--	--	--





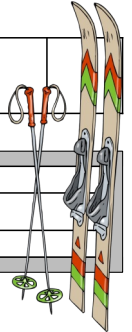
# Sachrechnen Klasse 2

29

Auf dem Schilift sitzen 43 Schifahrer und 16 Snowboardfahrer.  
Wie viele Personen sitzen auf dem Schilift?

R

A:



In der Gondel stehen 15 Schifahrer, 5 Rodler und 3  
Snowboarder. Wie viele Personen sind in der Gondel?

R

A:



In der Gondel sind 40 Personen. Davon sind 23 Schifahrer. Wie  
viele Personen haben keine Schi?

R

A:



Auf dem Schilift sind 58 Personen. Davon sind 13 Kinder. Wie  
viele Erwachsene sind auf dem Lift?

R

A:










Eine Zwergziege wiegt 36 Kilogramm.  
Wie viel wiegen zwei Zwergziegen?


R																			
---	--	--	--	--	--	--	--	--	--	--	--	--	--	--	--	--	--	--	--



A:																			
----	--	--	--	--	--	--	--	--	--	--	--	--	--	--	--	--	--	--	--

Ein Bennettkänguru wiegt etwa 27 kg.  
Wie viel wiegen zwei Kängurus?


R																			
---	--	--	--	--	--	--	--	--	--	--	--	--	--	--	--	--	--	--	--



A:																			
----	--	--	--	--	--	--	--	--	--	--	--	--	--	--	--	--	--	--	--

Ein Blesbock wiegt etwa 80 kg. Eine Zwergziege wiegt 36 kg.  
Wie groß ist der Unterschied zwischen den beiden?


R																			
---	--	--	--	--	--	--	--	--	--	--	--	--	--	--	--	--	--	--	--



A:																			
----	--	--	--	--	--	--	--	--	--	--	--	--	--	--	--	--	--	--	--

Ein Emu wiegt etwa 40 kg. Das Bennettkänguru etwa 27 kg.  
Um wie viel wiegt der Emu mehr?

R																			
---	--	--	--	--	--	--	--	--	--	--	--	--	--	--	--	--	--	--	--



A:																			
----	--	--	--	--	--	--	--	--	--	--	--	--	--	--	--	--	--	--	--



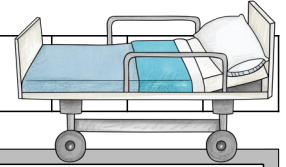


# Sachrechnen Klasse 2

35

In einem Krankenhaus werden 53 Patienten behandelt. 15 davon dürfen nicht aus dem Bett aufstehen. Wie viele Patienten dürfen alleine aufs WC?

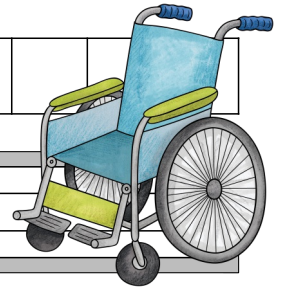
R



A:

Im Krankenhaus werden 72 Patienten behandelt. Nach einer Woche sind 8 Patienten wieder gesund und dürfen nach Hause. Wie viele Patienten sind noch da?

R



A:

Im Krankenhaus liegen 44 Männer, 28 Frauen und 23 Kinder. Wie viele Erwachsene sind das?

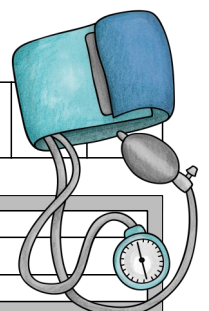
R



A:

In der Notaufnahme warten 31 Patienten. Nach einer Stunde sind nur noch 17 Menschen da. Wie viele wurden schon behandelt?


R



A:

Ein Cowboy hütet eine Herde mit 64 Kühen. Am Abend sind nur noch 58 Kühe. Wie viele Kühe hat er verloren?

R																			
---	--	--	--	--	--	--	--	--	--	--	--	--	--	--	--	--	--	--	--



A:																			
----	--	--	--	--	--	--	--	--	--	--	--	--	--	--	--	--	--	--	--

Ein Cowboy besitzt eine Herde mit 45 braunen und 18 weißen Kühen. Wie viele Kühe sind das insgesamt?

R																			
---	--	--	--	--	--	--	--	--	--	--	--	--	--	--	--	--	--	--	--



A:																			
----	--	--	--	--	--	--	--	--	--	--	--	--	--	--	--	--	--	--	--

Ein Cowboy hat 85 kg Futter gekauft. Nach einigen Tagen hat er nur noch 46 kg übrig. Wie viel Futter wurde gefressen?

R																			
---	--	--	--	--	--	--	--	--	--	--	--	--	--	--	--	--	--	--	--



A:																			
----	--	--	--	--	--	--	--	--	--	--	--	--	--	--	--	--	--	--	--

Die Kuhherde besteht aus 78 Tieren. Im Laufe der Woche werden 5 Kälber geboren. Wie viele Tiere sind es nun?

R																			
---	--	--	--	--	--	--	--	--	--	--	--	--	--	--	--	--	--	--	--




A:																			
----	--	--	--	--	--	--	--	--	--	--	--	--	--	--	--	--	--	--	--



Im Meer schwimmen 76 Anemonenfische und 17 blaue Fische.  
Wie viele Fische sind das insgesamt?


R																	
---	--	--	--	--	--	--	--	--	--	--	--	--	--	--	--	--	--



A:																	

Ein Hai ist auf der Jagd. Er frisst 26 kleine blaue Fische und  
15 kleine rote Fische. Wie viele Fische hat er gefressen?


R																	
---	--	--	--	--	--	--	--	--	--	--	--	--	--	--	--	--	--



A:																	

Ein Wal begegnet einem Schwarm mit 85 kleinen Fischen. Er  
verschluckt 35 davon. Wie viele Fische sind noch übrig?


R																	
---	--	--	--	--	--	--	--	--	--	--	--	--	--	--	--	--	--



A:																	

Im Meer schwimmen ein Schwarm mit 65 roten Fischen und  
ein Schwarm mit 46 blauen Fischen. Wie groß ist der  
Unterschied?

R																	
---	--	--	--	--	--	--	--	--	--	--	--	--	--	--	--	--	--




A:																	





Im Bienenstock sind 45 Tiere. 47 Bienen kommen vom Honigsammeln zurück. Wie viele Bienen sind es nun?


R																			
---	--	--	--	--	--	--	--	--	--	--	--	--	--	--	--	--	--	--	--



A:																			
----	--	--	--	--	--	--	--	--	--	--	--	--	--	--	--	--	--	--	--

Im Bienenstock sind 100 Bienen. 87 Bienen fliegen los um Honig zu suchen. Wie viele Bienen sind noch im Stock?


R																			
---	--	--	--	--	--	--	--	--	--	--	--	--	--	--	--	--	--	--	--



A:																			
----	--	--	--	--	--	--	--	--	--	--	--	--	--	--	--	--	--	--	--

Biene Sumsi fliegt morgens zu 37 Blüten und nachmittags zu 44 Blüten. Wie viele Blüten hat sie besucht?


R																			
---	--	--	--	--	--	--	--	--	--	--	--	--	--	--	--	--	--	--	--



A:																			
----	--	--	--	--	--	--	--	--	--	--	--	--	--	--	--	--	--	--	--

Der faule Willi besucht 22 Blüten weniger als Sumsi. Wie viele Blüten hat er besucht?

R																			
---	--	--	--	--	--	--	--	--	--	--	--	--	--	--	--	--	--	--	--



A:																			
----	--	--	--	--	--	--	--	--	--	--	--	--	--	--	--	--	--	--	--